






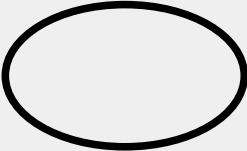



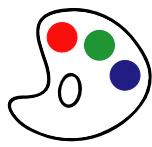


ĎTSKÉ STRÁNKY

VELKÝ - MENŠÍ - NEJMENŠÍ

V tabulce je nakresleno několik tvarů. Vaším úkolem je doplnit ji tak, aby v následujících políčkách byl tvar ve správné velikosti. Nejdřív největší, pak menší a nakonec nejmenší.

TVAR	VELKÝ	MENŠÍ	NEJMENŠÍ
			
			
			
			
			
			



ĚTSKÉ STRÁNKY

MALÝ - VĚTŠÍ - NEJVĚTŠÍ

V tabulce je nakresleno několik tvarů. Vaším úkolem je doplnit ji tak, aby v následujících políčkách byl tvar ve správné velikosti. Nejdřív malý, pak větší a nakonec největší.

TVAR	MALÝ	VĚTŠÍ	NEJVĚTŠÍ
